


El oso en la lluvia

El oso sale afuera en la lluvia. Le gusta mucho ponerse su abrigo amarillo. También se pone su gorro para no mojarse la cabeza. El oso saca el paraguas grande de diferentes colores. Al oso le gusta mucho la lluvia.



1. ¿Dónde sale el oso?

2. ¿Qué le gusta ponerse?


3. ¿Qué color es el abrigo?

4. ¿Por qué se pone su gorro?

5. ¿Qué le gusta al oso?

La lluvia

Me encanta cuando estamos en la escuela y comienza a llover. Lluve tanto que empezamos a escuchar el ruido de la lluvia en el techo. El sonido de la lluvia me hace pensar en que sería tan divertido estar afuera chapoteando en los charcos con mis amigos de la escuela. Me espero hasta la salida de clases para mojarme en la lluvia.



1. ¿Dónde está el niño?

2. ¿Qué empiezan a escuchar?

3. ¿Qué sería divertido?

4. Luego..

5. ¿Qué va esperar?

El paraguas

A Santiago le gusta mucho la lluvia. Cuando despierta todas las mañanas, se fija si hay nubes afuera. Si hay nubes, saca el paraguas amarillo con bolitas rojas. Ese paraguas lo protege de la lluvia cuando va caminando a la escuela. Cuando para de llover, Santiago guarda su paraguas en un lugar seguro.



1. ¿Qué le gusta a Santiago?

2. ¿Dónde se fija Santiago?

3. ¿Cómo es el paraguas de Santiago?

4. ¿Qué lo protege de la lluvia?

5. ¿Dónde guarda el paraguas?



Los juguetes

Juana tiene muchos juguetes en su recámara. Ella ya no sabe que hacer con tanto juguete. Tuvo una idea maravillosa. Ella decidió regalar los juguetes a niños que no tienen. Limpio los juguetes, los puso en una bolsa y se los dio a su mamá para que ella se los diera a los niños.

Los juguetes

1. ¿Cuál es la idea principal de este cuento?

- (A) Juana quiere regalar sus juguetes.
- (B) Juana quiere comprar más juguetes.
- (C) A la mamá de Juana no le gusta ver tanto juguetes.

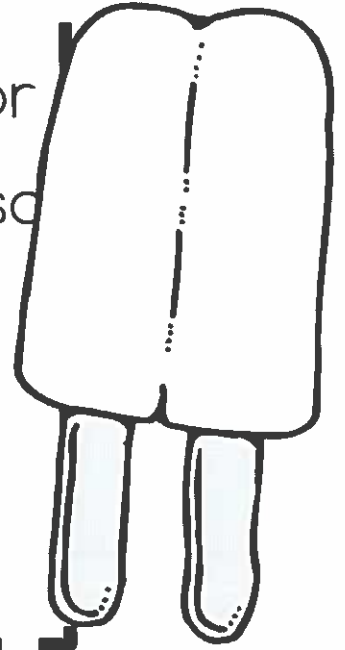
Detalles



Revise + Edit

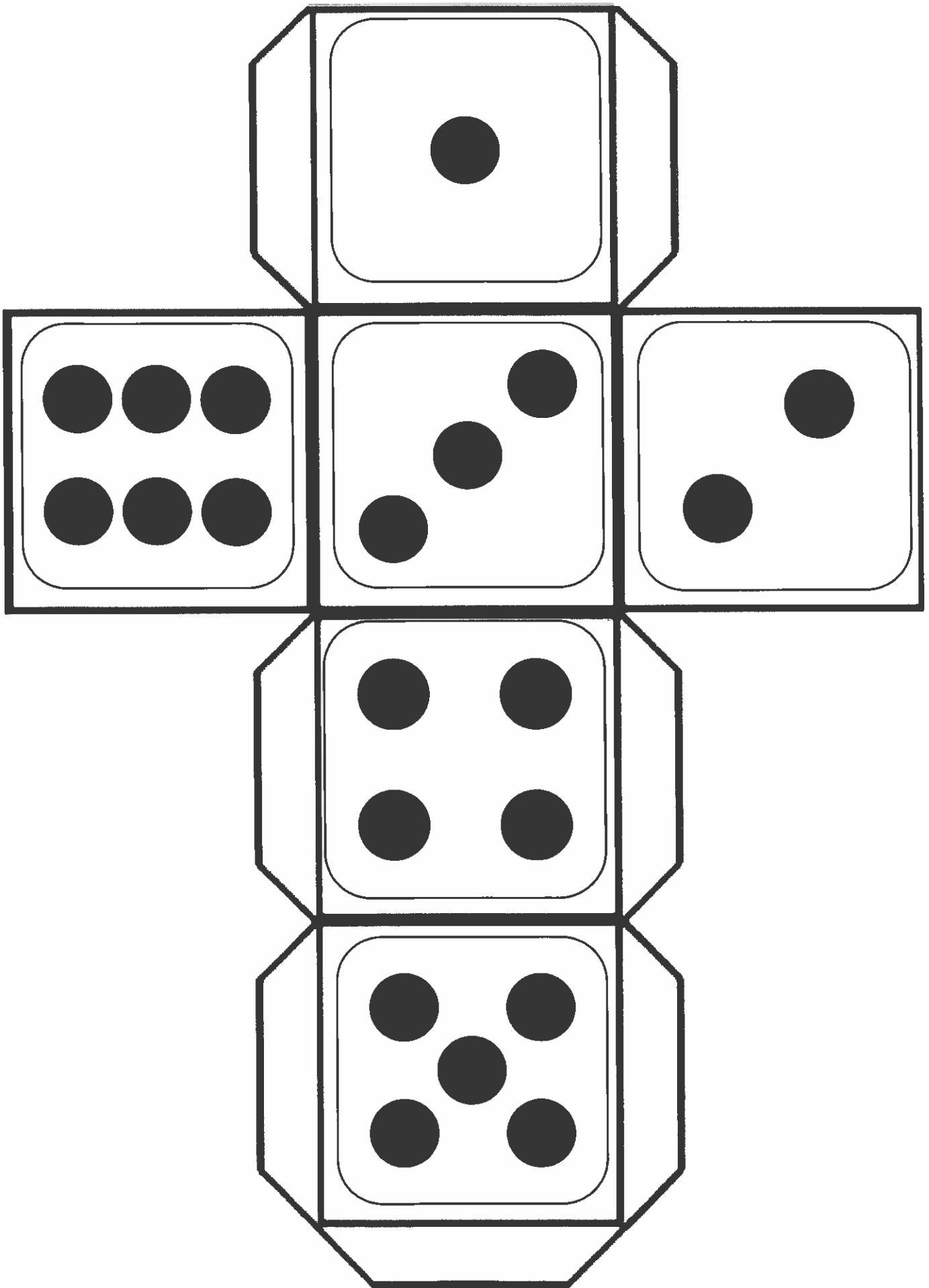
REVISA Y EDITA EL PARRAFO

me gusta comer paletas la paleta
que prefiero es de limon es de color
amarilla el paletero viene por mi casa
todos dias y yo siempre quiero una
paleta de limon que ricas son las
paletas de limon









ESCRIBE EL PARRAFO


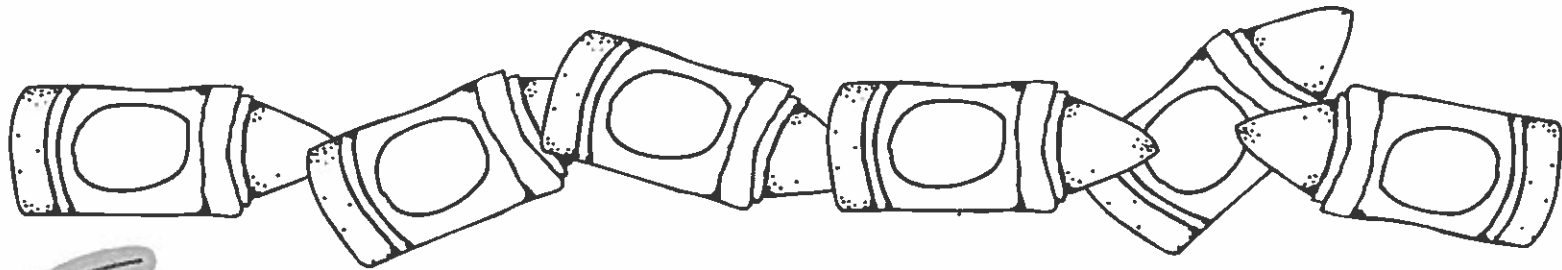
Handwriting practice lines consisting of multiple sets of solid top and bottom lines with a dashed midline.



Tira y colorea la palabra

Tira el dado y colorea la palabra una vez. Sigue tirando el dado hasta que colores todas las palabras

bolo 	burro 	barro 	nube 	bebé 	bata 
--	---	---	--	--	--



bolo	burro	barro	nube	bebé	bata
bolo	burro	barro	nube	bebé	bata
bolo	burro	barro	nube	bebé	bata
bolo	burro	barro	nube	bebé	bata
bolo	burro	barro	nube	bebé	bata



Tira y escribe una oración




La	vilana	bonita	está	en el castillo
Una	princesa	fea	camina	en el bosque.
	reina	malvada	llora	adentro del castillo.
	hermana	preciosa	se rie	cerca del castillo.

Escribe y dibuja tu oración




La princesa bonita está en el castillo.








Tira y escribe una oración




				
El	niño	bueno	corre	en el bosque.
Un	gigante	tímido	asusta	en el castillo.
	villano	valiente	se trepa	adentro del castillo.
	dragón	inteligente	duerme	afuera de la casa.

Escribe y dibuja tu oración



Four sets of horizontal writing lines for the prayer text. Each set consists of a solid top line, a dashed middle line, and a solid bottom line.

Lee y escribe un párrafo de 5 oraciones sobre los hechos



Los caballos

El caballo es un animal grande de cuatro patas que siempre fue importante para los humanos. Por muchos años, el caballo fue una forma de transportación para los humanos. Ahora el caballo se usa para carreras y pasatiempo para los humanos.

Hay más de 300 diferente tipos de caballos. Los caballos varían de color, tamaño y pelaje.. El caballo puede vivir hasta 25 años. Algo interesante de los caballos es que ellos pueden dormir acostados o parados. Los ojos de los caballos son los más grandes que cualquier otro mamífero.

Read + write a 5 sentence paragraph about the facts



Handwriting practice lines consisting of multiple sets of three horizontal lines: a solid top line, a dashed middle line, and a solid bottom line. The lines are arranged in a grid-like pattern across the page.

nouns

Clasifica los sustantivos

Nombre: _____

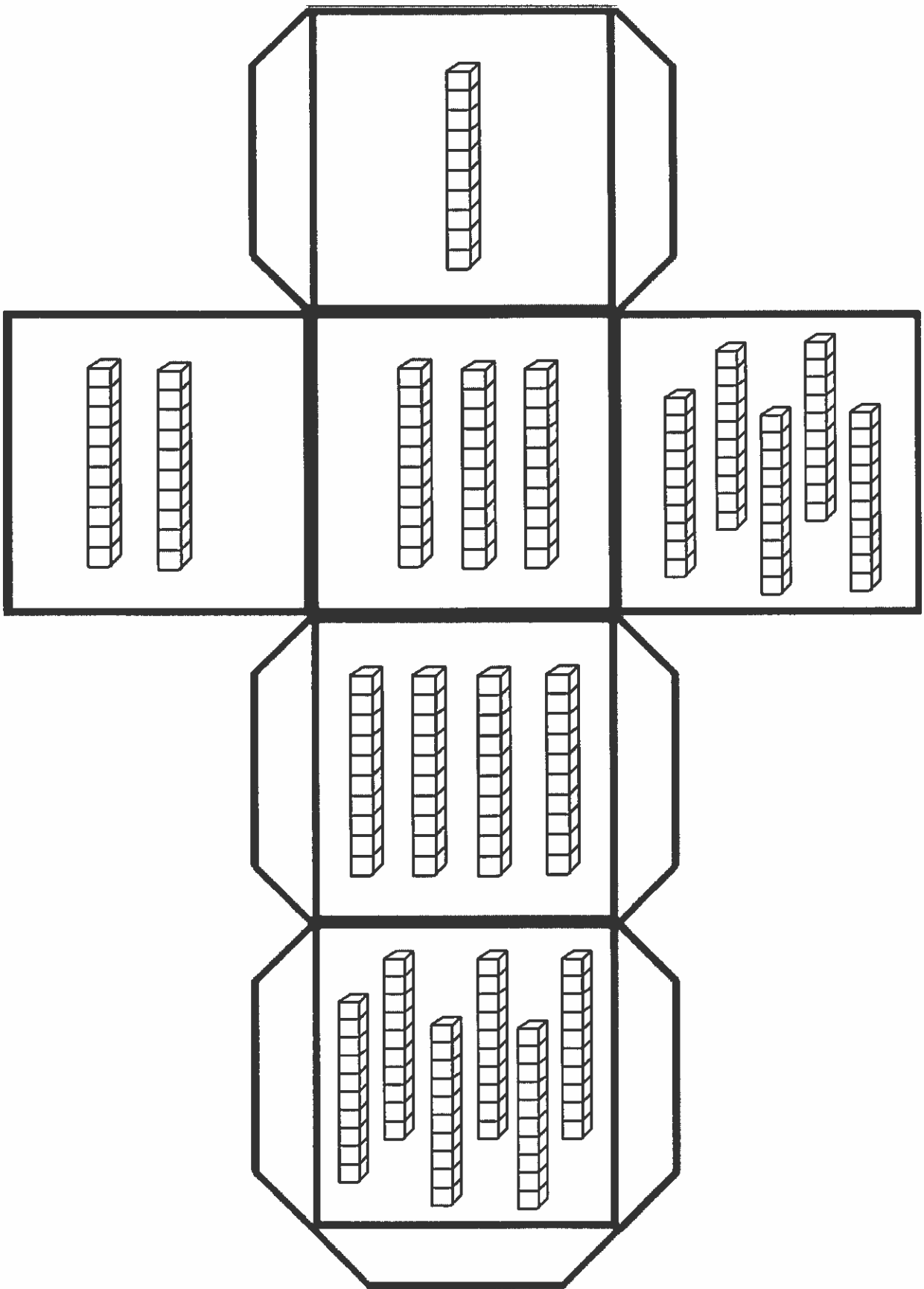
Instrucciones: Encuentra los sustantivos y coloréalas el color apropiado.

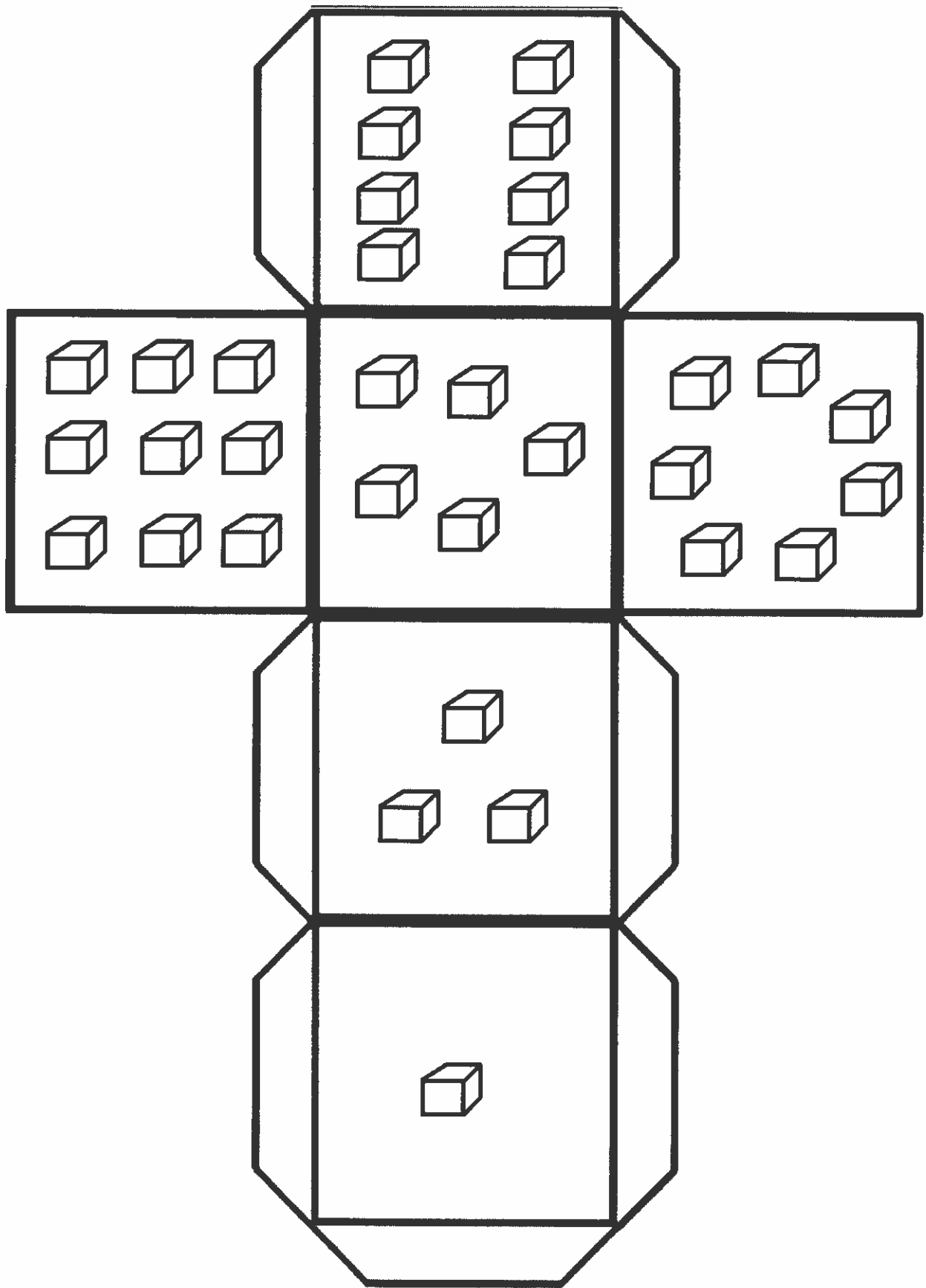


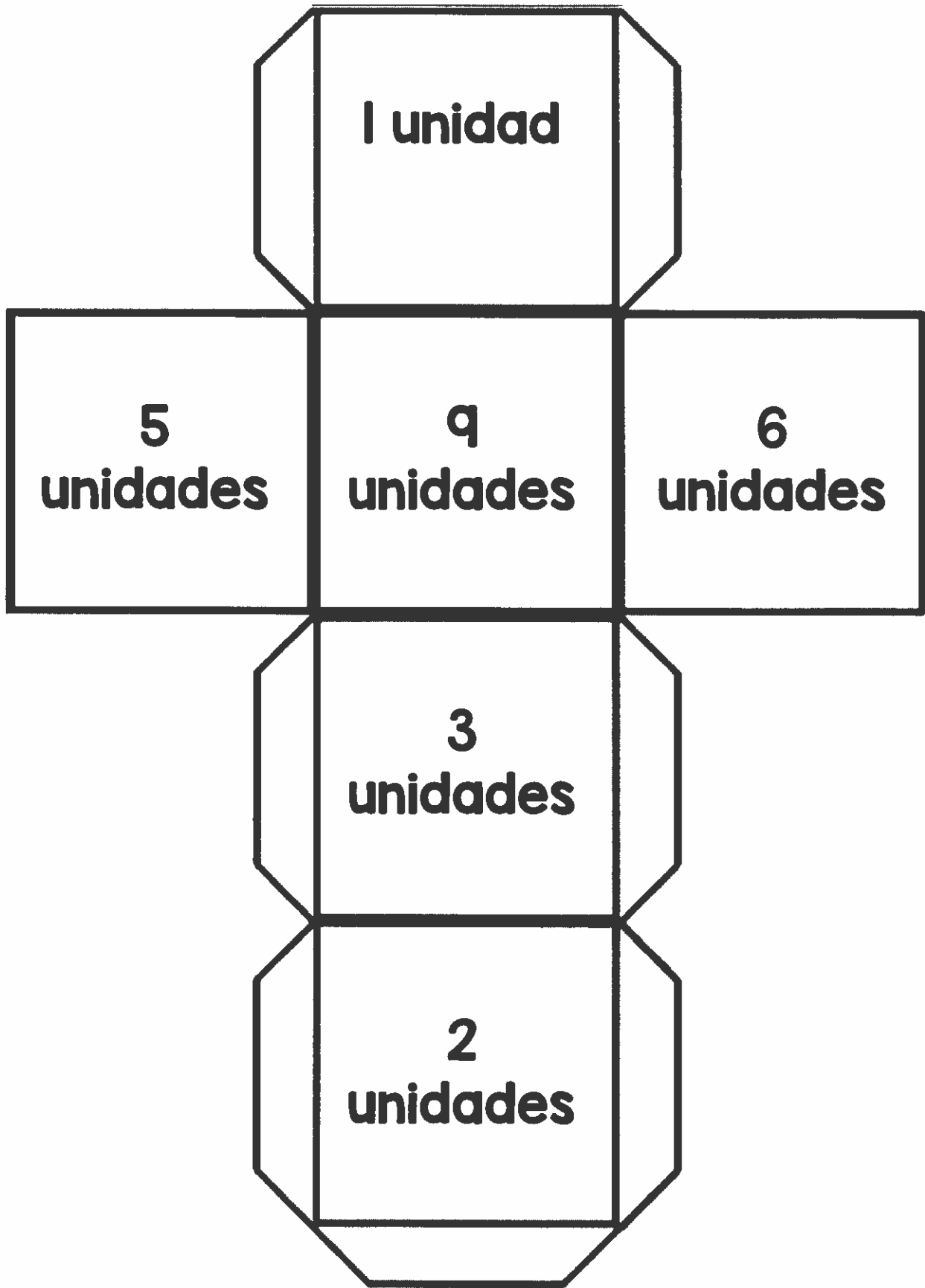
la maestra	el juego	la taza	el gato	la abuela
el hospital	el papá	la manzana	el caballo	la iglesia
la serpiente	la tienda	la mujer	el parque	el lápiz
el marcador	el búho	el bosque	el niño	el oso

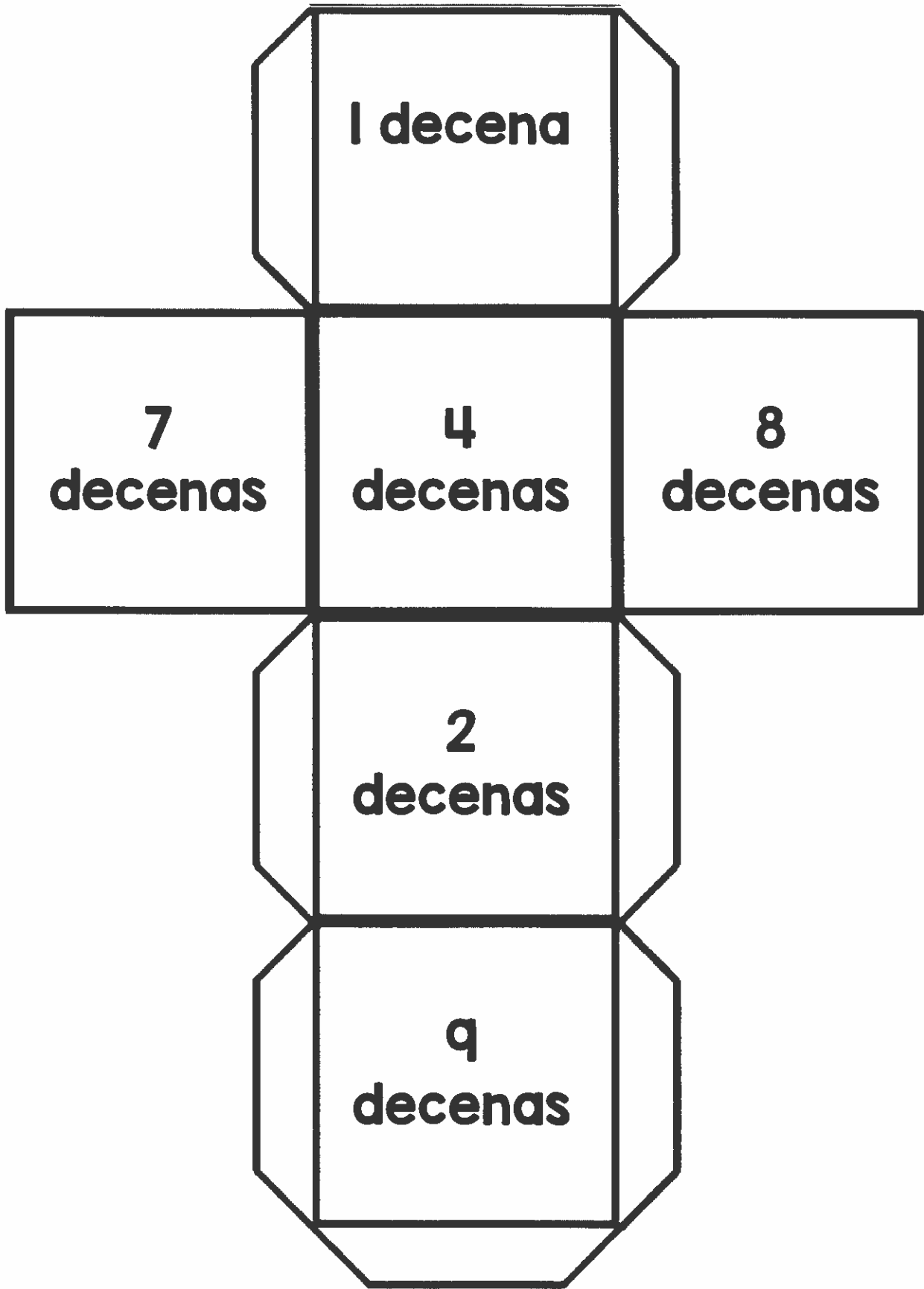
Instrucciones: Escribe los sustantivos debajo de la categoría apropiada.

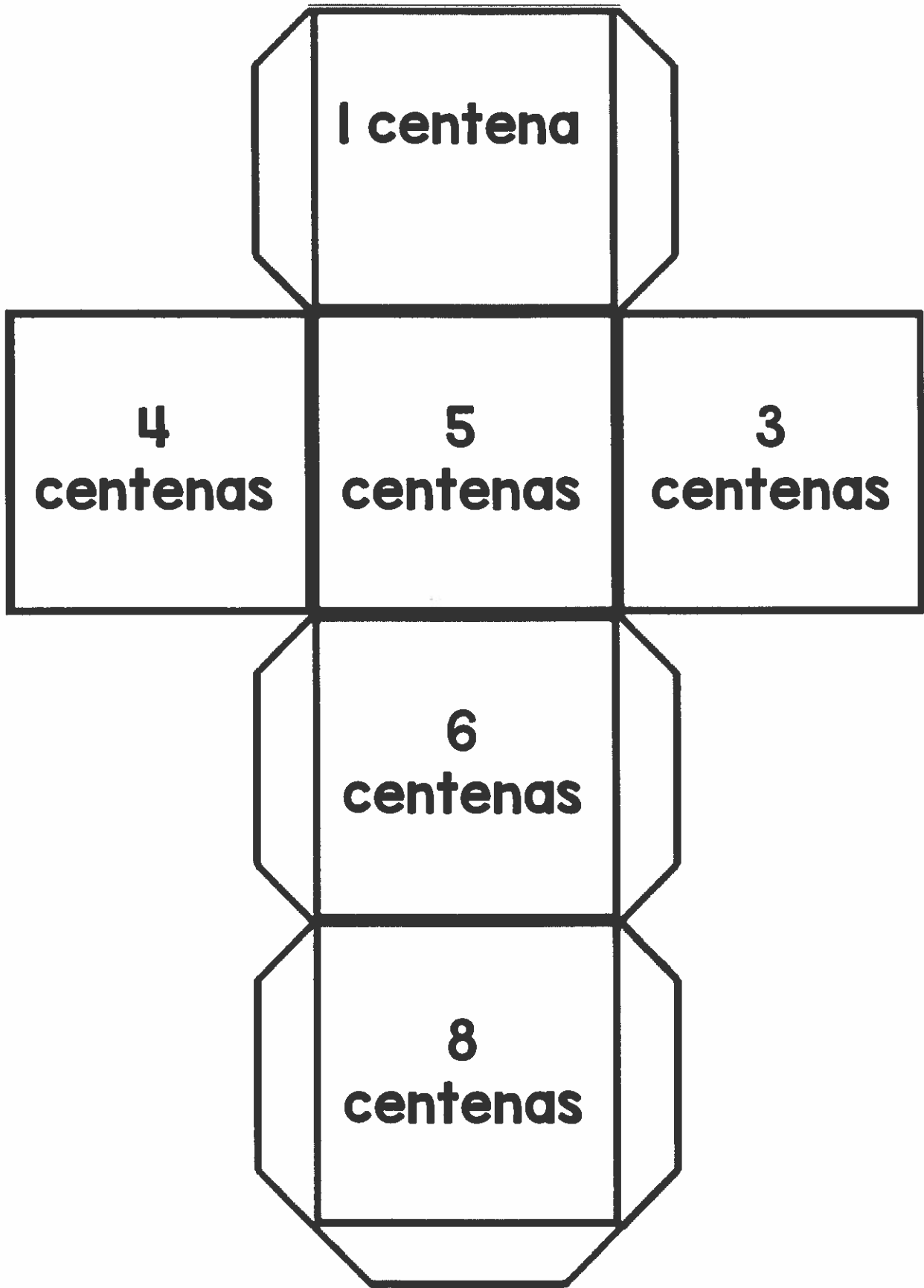
las personas	los lugares	las cosas	los animales


















Nombre.....


Lanza un valor posicional


	
decenas	unidades


	
decenas	unidades


	
decenas	unidades


	
decenas	unidades


	
decenas	unidades


	
decenas	unidades


	
decenas	unidades


	
decenas	unidades

	
decenas	unidades

	
decenas	unidades

	
decenas	unidades

	
decenas	unidades



Nombre _____

Construye un número



decenas	unidades	número





Nombre _____

Construye un número



centenas	decenas	unidades	número

Juego de dados

decenas	unidades	número
		52



decenas	unidades	número



Nombre _____

1. Circula los números que tengan un 5 en el lugar de las decenas.

25 50 68 52 53 79 52 55 80 31

2. Circula los números que tengan un 8 en el lugar de las unidades.

16 28 58 32 78 89 47 58 68 11

3. Circula los números que tengan un 1 en el lugar de las unidades.

15 40 78 42 13 19 57 71 10 80

4. Circula los números que tengan un 4 en el lugar de las decenas.

45 34 48 22 74 49 83 41 90 47

5. Circula los números que tengan un 2 en el lugar de las unidades.

13 42 78 46 12 17 52 79 12 88

6. Circula los números que tengan un 7 en el lugar de las decenas.


64 70 67 72 51 98 77 55 70 37

7. Circula los números que tengan un 3 en el lugar de las unidades.

33 20 68 12 43 73 59 43 80 23

8. Circula los números que tengan un 6 en el lugar de las decenas.

26 62 64 67 93 49 69 52 68 31



Nombre _____ 2

1. Circula los números que tengan un 9 en el lugar de las unidades.

27 55 69 52 59 49 22 55 89 91

2. Circula los números que tengan un 5 en el lugar de las unidades.

15 28 35 32 78 89 45 48 68 35

3. Circula los números que tengan un 3 en el lugar de las decenas.

25 30 73 45 16 13 87 93 10 22

4. Circula los números que tengan un 8 en el lugar de las unidades.

85 94 78 28 54 49 43 48 18 37

5. Circula los números que tengan un 9 en el lugar de las decenas.

10 91 76 95 13 19 90 76 14 98

6. Circula los números que tengan un 0 en el lugar de las unidades.

14 80 66 75 51 90 57 93 30 20

7. Circula los números que tengan un 4 en el lugar de las unidades.


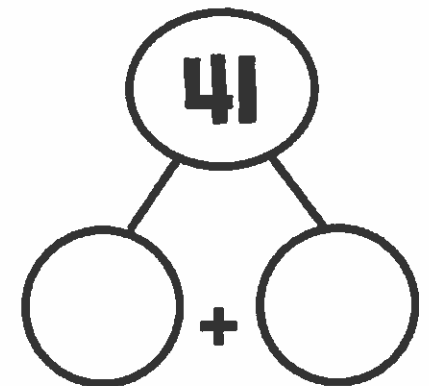
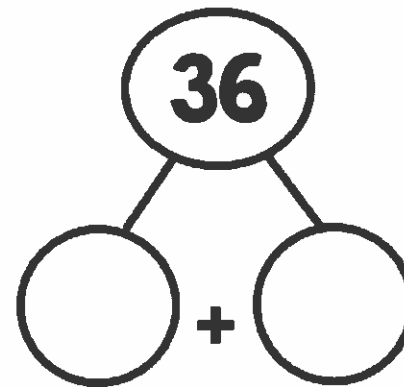
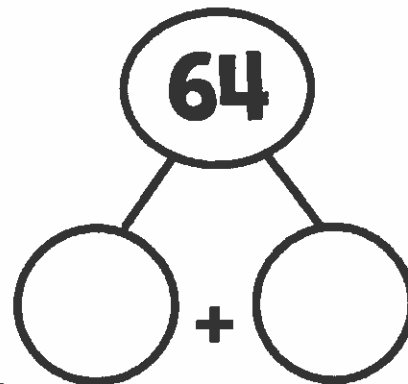
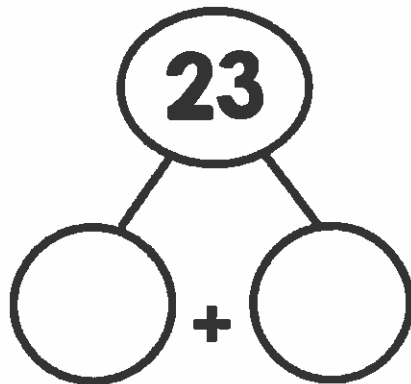
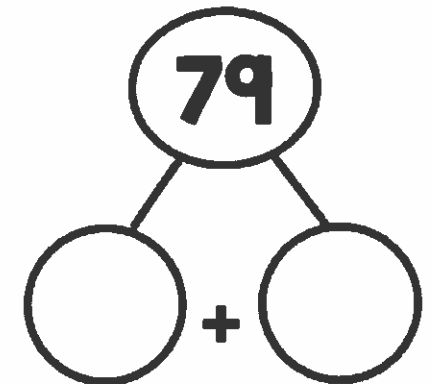
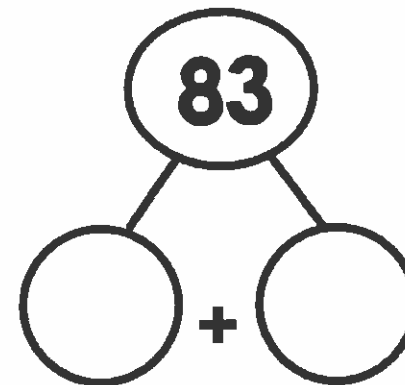
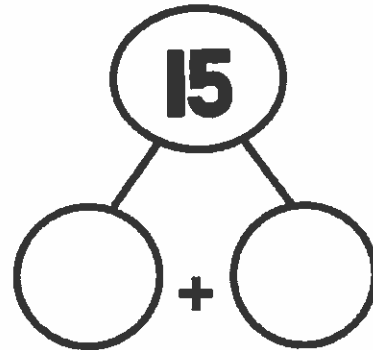
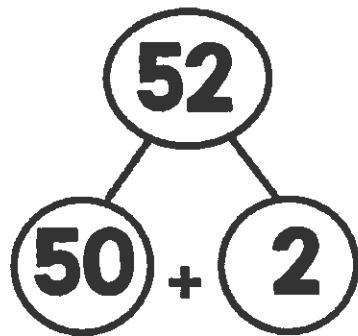

74 20 68 54 44 53 49 43 64 93

8. Circula los números que tengan un 2 en el lugar de las decenas.


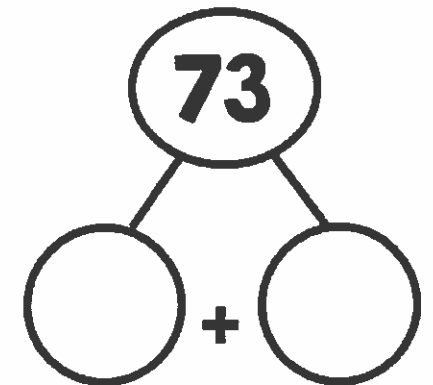
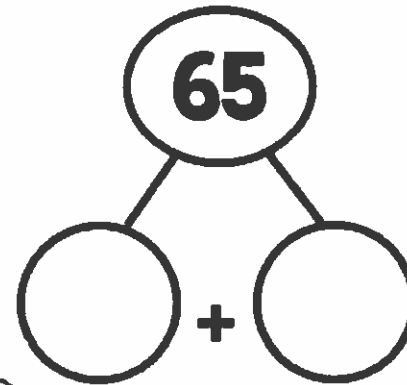
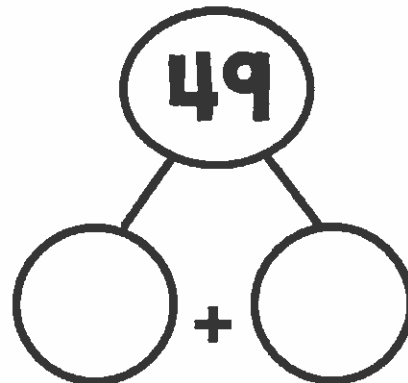
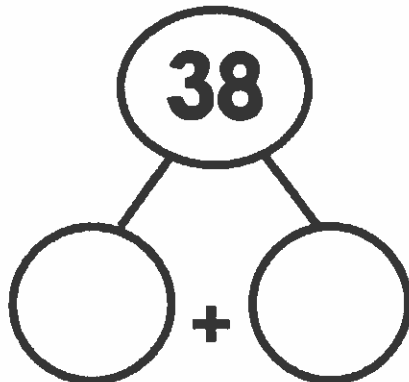
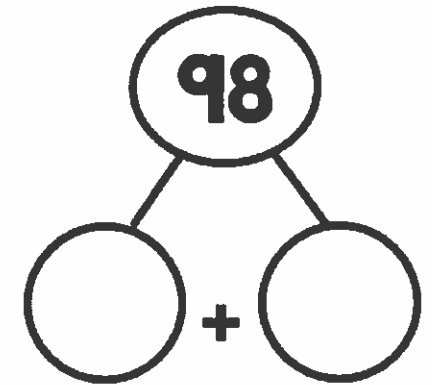
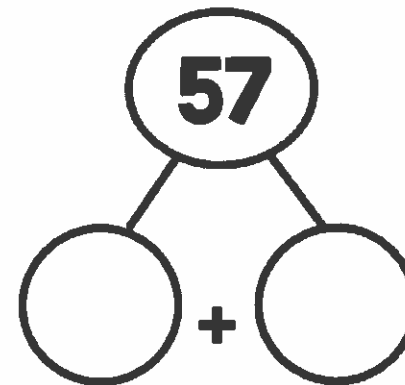
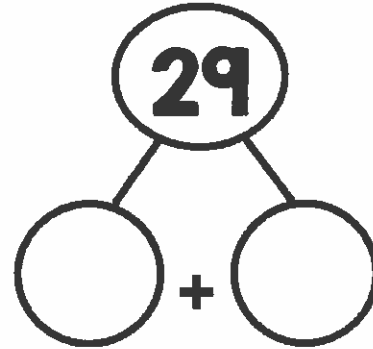
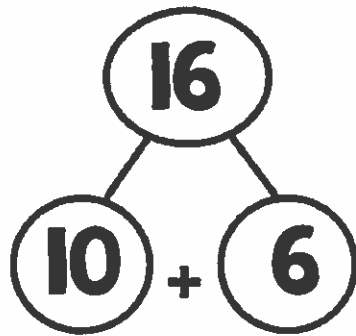

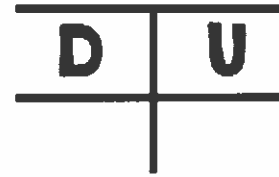
26 82 24 47 33 99 20 22 67 35

Árbol de valor posición

D	U
---	---




Árbol de valor posición



Nombre _____

Escribe los números antes y después

___45___	___56___	___75___	___89___
___100___	___107___	___83___	___81___
___98___	___51___	___62___	___33___
___79___	___82___	___39___	___73___
___44___	___31___	___84___	___42___
___47___	___51___		
___36___	___88___		
___93___	___53___		

NOMBRE

ESCRIBE LO MÁS PARA CADA NÚMERO



45						
27						
34						
26						
55						
21						
30						

Nombre _____

Sumas y restas

Escribe sumas o restas con el número



$8+7=$

15



20



17



16



18